

Nombre: _____

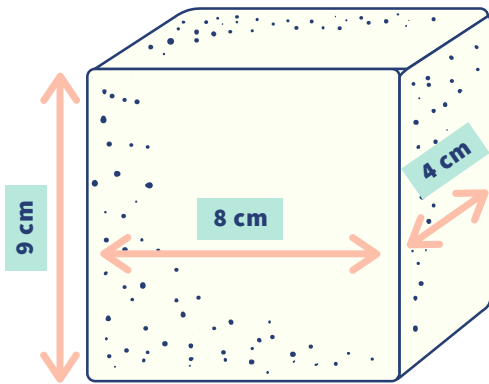
Docente: _____

Grado y grupo: _____

Fecha: _____

Calculando el volumen

La fórmula para obtener el volumen de un prisma rectangular es $a \times b \times h$.
Vamos a practicar calculando el volumen de los siguientes problemas:



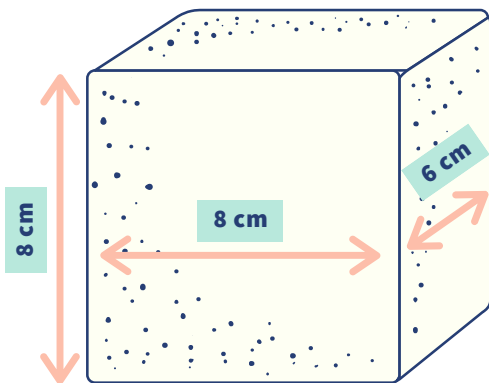
a: _____
b: _____
h: _____

Volumen:



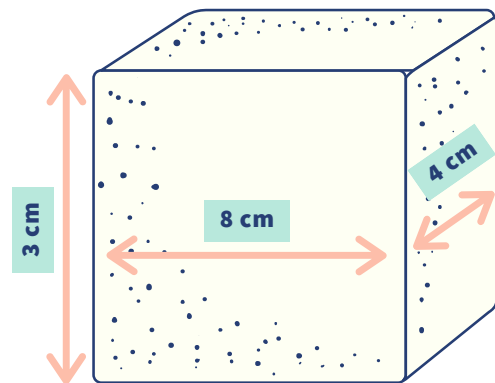
a: _____
b: _____
h: _____

Volumen:



a: _____
b: _____
h: _____

Volumen:



a: _____
b: _____
h: _____

Volumen: